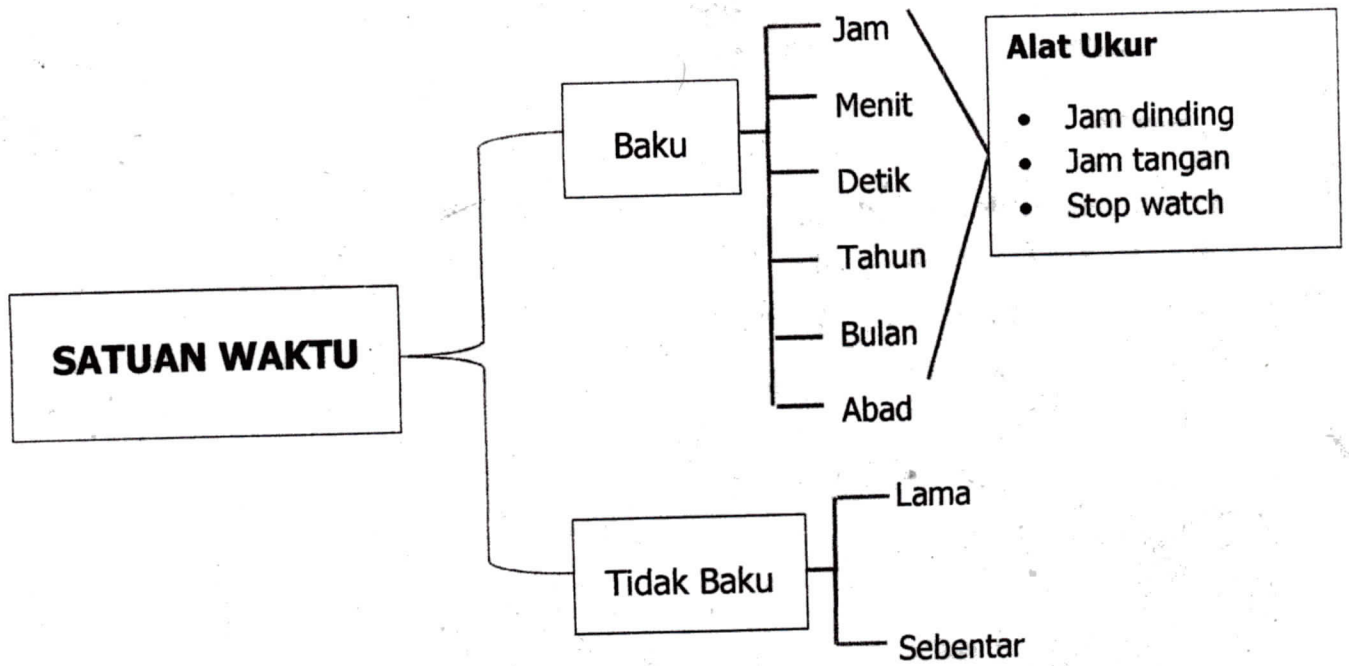
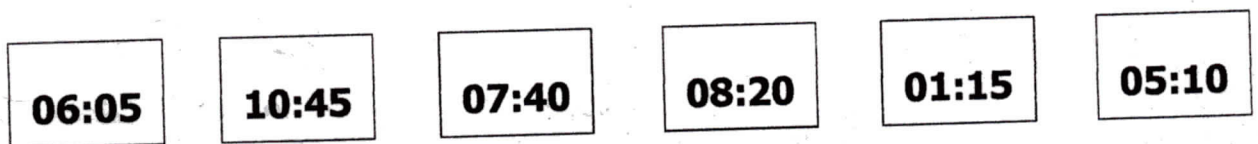



SATUAN WAKTU




Menentukan jam dan analog

Pasangkanlah jam dengan waktu yang sesuai !



Lanjutkan dengan memasang jam berikut ini !



08:15
 02:22
 04:55
 07:19
 01:42

12:36
 03:12
 08:04
 06:37
 11:47

Ubahlah satuan jam menjadi menit

1. 1 jam 45 menit = menit + menit = menit
2. 2 jam 50 menit = menit + menit = menit
3. 3 jam 5 menit = menit + menit = menit
4. 6 jam 16 menit = menit + menit = menit
5. 7 jam 60 menit = menit + menit = menit

B. Ubah satuan menit menjadi jam!

60 menit = ... jam
 120 menit = ... jam
 180 menit = ... jam
 300 menit = ... jam

C. Ubahlah satuan menit menjadi jam!

1. 70 menit = ... jam ... menit



2. 160 menit = ... jam ... menit



3. 214 menit = ... jam ... menit



4. 330 menit = ... jam ... menit



5. 420 menit = ... jam ... menit

