


**SOAL IPS (PERSIAPAN USEK)
PAKET A B C**

6

SOAL USEK IPS PAKET A

- I. Berilah tanda silang (X) pada huruf A, B, C, atau D pada jawaban yang paling benar!**
1. Daerah di Jawa Timur yang masyarakatnya memanfaatkan sumber daya alam kelautan yaitu...
A. Paiton, Probolinggo
B. Muncar, Banyuwangi
C. Rungkut, Surabaya
D. Menganti, Gresik
 2. Produk sektor industri unggulan dari kabupaten Pasuruan adalah...
A. industri kerajinan sulam benang
B. industri pakan ternak
C. industri kue kering
D. industri tekstil
 3. Tarian yang ditampilkan saat menyambut kedatangan tamu di Surabaya adalah tari...
A. Remo
B. Pendet
C. Piring
D. Gambyong
 4. Berbagai etnis yang ada di propinsi Jawa Timur antara lain adalah....
A. Sasak, Tengger, Osing
B. Tengger, Asmat, Sasak
C. Madura, Osing, Tengger
D. Bawean, Jawa, Asmat
 5. Profesi yang berkaitan dengan kegiatan pariwisata antara lain adalah...
A. Guide
B. Sales
C. Polisi
D. Sopir
 6. Di bawah ini yang merupakan kerajaan Hindu di Provinsi Jawa timur adalah ...
A. Kerajaan Kutai
B. Kerajaan Singasari
C. Kerajaan Tarumanegara
D. Kerajaan Medang Kamulan
 7. Kerajaan Singasari mengalami masa kejayaan dengan mengirimkan pasukan dalam ekspedisi Pamalayu untuk menjadikan Sumatera sebagai benteng pertahanan bagi Kerajaan. Pada saat itu kerajaan Singasari dipimpin oleh raja
A. Ken Arok
B. Brawijaya
C. Kertanegara
D. Anusapati
 8. 
Berdasarkan gambar peta di atas, tanda X menunjukkan selat....
A. Bali
B. Sunda
C. Bangka
D. Madura
 9. Dampak letak geografis Indonesia di bidang transportasi adalah....
A. Penambah devisa negara
B. Perkembangan pariwisata yang pesat
C. Adanya akulturasi budaya asing dan budaya lokal
D. Peningkatan akomodasi angkutan umum
 10. Sebuah kapal berangkat dari Surabaya menuju Manokwari pada pukul 06.00 WIB. Bila lama perjalanan 8 jam, kapal akan sampai di Manokwari pada pukul
A. 16.00 WIT
B. 18.00 WIT
C. 17.00 WIT
D. 19.00 WIT
 11. Salah satu kegiatan ekonomi penduduk yang tinggal di daerah dataran tinggi adalah....
A. budidaya rumput laut sebagai bahan pangan
B. pertanian sebagai sumber pangan penduduk
C. kegiatan industri untuk produksi barang
D. kegiatan perdagangan sebagai pemenuhan kebutuhan

12. Penambangan liar akan menimbulkan beberapa dampak negatif bagi lingkungan. Salah satu dampak yang ditimbulkan adalah....
- A. tanah semakin subur
B. tanah menjadi gembur
C. lingkungan sekitar tampak indah
D. meninggalkan lubang-lubang raksasa
13. Usaha untuk meningkatkan hasil pertanian dengan cara memperbanyak jenis tanaman disebut ...
- A. intensifikasi pertanian
B. ekstensifikasi pertanian
C. diversifikasi pertanian
D. mekanisasi pertanian
14. Salah satu dampak positif dari berkembang pesatnya pembangunan industri bagi masyarakat sekitar adalah....
- A. masyarakat cenderung konsumtif
B. banyak pemukiman kumuh di kota
C. banyak tersedianya lapangan pekerjaan
D. banyak penduduk yang melakukan urbanisasi ke kota
15. Tujuan utama diadakan program transmigrasi oleh pemerintah adalah....
- A. pemerataan jumlah penduduk
B. peningkatan ekonomi masyarakat
C. meningkatkan pendapatan masyarakat
D. pengurangan penduduk di daerah terpencil
16. Salah satu faktor yang menyebabkan bangsa Eropa datang ke Indonesia adalah
- A. Bangsa Eropa ingin menjalin kerjasama perdagangan dengan Indonesia.
B. Bangsa Eropa mengagumi keramahan yang dimiliki oleh penduduk Indonesia.
C. Bangsa Eropa memiliki kelangkaan rempah-rempah
D. Bangsa Eropa mengagumi kondisi alam di Indonesia.
17. Berikut ini adalah upaya bangsa Indonesia dalam mempertahankan kedaulatannya yaitu
- A. Menghalangi siapa saja yang ingin masuk ke wilayah Indonesia.
B. Tidak mengizinkan budaya dari negara lain masuk ke Indonesia.
C. Mendatangkan barang-barang yang canggih dari negara lain.
D. Memupuk jiwa persatuan dan kesatuan.
18. Beberapa penyebab bangsa Indonesia mengalami kegagalan dalam melawan penjajah pada tahun 1908 adalah
- A. Tingkat pendidikan bangsa Indonesia yang masih rendah.
B. Besarnya perlawanan yang dilakukan oleh penjajah.
C. Banyaknya bantuan yang diberikan oleh penjajah.
D. Luasnya wilayah yang dimiliki Indonesia.
19. Batas geografis di bagian utara dari wilayah negara-negara ASEAN adalah
- A. Gurun Ghobi dan Tibet
B. Republik Rakyat China
C. Samodera Pasifik
D. Samodera Hindia.
20. Sumber daya alam terbesar yang dihasilkan oleh negara di samping
- A. beras
B. minyak bumi
C. batubara
21. Perhatikan pernyataan berikut.
1. Filipina
2. Indonesia
3. Malaysia



4. Thailand

5. Vietnam

Wilayah Negara-negara ASEAN yang berbentuk kepulauan adalah

A. 1, 2, dan 3

B. 1, 3, dan 5

C. 2, 3, dan 4

D. 3, 4, dan 5

22. Gambar berikut ini yang merupakan kebudayaan Indonesia adalah...

A.



C.



B.



D.



23. Berikut ini merupakan faktor penyebab terjadinya modernisasi di Indonesia adalah...

A. tidak ingin bekerja terlalu berat

C. ingin hidup tanpa orang lain

B. ingin menguasai dunia

D. ingin efisien dalam bekerja

24. Kemudahan mengakses alat komunikasi memiliki dampak buruk yaitu...

A. berbicara tanpa tatap muka

C. belajar melalui internet

B. menyebarnya berita bohong

D. informasi cepat menyebar

25. Salah satu dampak buruk menyebarnya westernisasi adalah...

A. menyelesaikan pekerjaan menurut ketentuan waktu

B. anak menganggap guru atau orang tua seperti teman sendiri

C. pekerjaan dikerjakan dengan mendetail

D. keterbukaan dan penghargaan

26. Dampak positif dari modernisasi pada bidang transportasi adalah...

A. Biaya perjalanan menjadi lebih murah

C. Meningkatnya pencemaran udara

B. Waktu tempuh lebih cepat

D. Seingnya terjadi kecelakaan di jalan raya

27. Perhatikan gambar di bawah ini !





Alat yang diperlukan juru masak untuk memproduksi makanan ditunjukkan dengan nomor ...

- A. 1 B. 2 C. 3 D. 4

28. Salah satu peran Indonesia di bidang politik ASEAN adalah ...

- A. mengirim tenaga kerja ke negara lain
 B. membantu menyelesaikan konflik Pemerintah Filipina dengan Suku Moro
 C. membantu memberantas perdagangan narkoba di ASEAN
 D. mendirikan pabrik pupuk urea milik ASEAN

29. Perhatikan beberapa pernyataan di bawah ini

- | | |
|--|--|
| 1. menjadi tuan rumah SEA Games | 3. ikut mendirikan pabrik pupuk urea milik ASEAN |
| 2. ikut menandatangani Deklarasi Bangkok | 4. menjadi tuan rumah Jakarta Informal Meeting |

Peran Indonesia di bidang budaya dalam lingkup ASEAN ditunjukkan dengan Pernyataan nomor ...

- A. 1 B. 2 C. 3 D. 4

30. Perhatikan gambar tokoh berikut.

Gambar di samping merupakan salah satu tokoh pendiri ASEAN yang bernama ...

- A. Adam Malik
 B. Thanat Khoman
 C. S.Rajaratnam
 D. Narciso Ramos



31. Mementaskan berbagai macam tarian Nusantara ke berbagai negara anggota ASEAN termasuk salah satu contoh kerja sama ASEAN di bidang ...

- A. Pendidikan B. Budaya C. Sosial D. Ekonomi

32. Berikut ini merupakan organisasi yang dibentuk untuk mempersiapkan kemerdekaan Indonesia adalah ...

- A. BPUPKI B. PMI C. KNPI D. PNI

33. Salah satu tokoh yang berperan dalam persiapan kemerdekaan Indonesia adalah ...

- A. Sukarno B. Suharto C. Sudirman D. Moh. Yamin

34. Di bawah ini yang merupakan peristiwa yang terjadi dalam rangka mempertahankan kemerdekaan Indonesia adalah ...

- | | |
|----------------------|-----------------------|
| A. Perang Diponegoro | C. Bandung Lautan Api |
| B. Pramelayu | D. Puputan Margarana |

35. Salah satu upaya yang dikembangkan untuk meningkatkan kehidupan kebangsaan yang sejahtera adalah
- A. memberikan semua yang diminta rakyat
 - B. menurunkan semua harga barang pokok
 - C. menaikkan semua gaji pegawai pemerintah
 - D. memberikan kenyamanan hidup dan bekerja


II. Jawablah pertanyaan di bawah ini dengan benar!

36. Tuliskan 2 kerajaan Islam yang pernah berdiri di Indonesia!
37. Jelaskan 3 dampak positif dengan letak geografis Indonesia!
38. Jelaskan kegiatan ekonomi penduduk di negara Laos, Brunai Darusalam, dan Myanmar!
39. Jelaskan 3 perubahan sosial budaya sebagai dampak globalisasi!
40. Jelaskan jasa dan peranan Ir. Soekarno dalam memproklamasikan kemerdekaan!

LATIHAN SOAL IPS PAKET B

I. **Berilah tanda silang (X) pada huruf A, B, C, atau D pada jawaban yang paling benar!**

1. Masyarakat di Jawa Timur yang memanfaatkan sumber daya alam kelautan sebagai mata pencaharian terdapat di daerah...
 - A. Paiton, Probolinggo
 - B. Muncar, Banyuwangi
 - C. Rungkut, Surabaya
 - D. Menganti, Gresik
2. Sumber daya alam dari sektor pertanian yang cukup potensial dan melimpah di Kabupaten Pasuruan adalah
 - A. bunga mawar, bunga melati
 - B. bunga mawar, bunga sedap malam
 - C. bunga melati, bunga anggrek
 - D. bunga anggrek, bunga sedap malam.
3. Tarian Jawa Timur yang ditampilkan untuk membuka suatu kegiatan atau acara yaitu tari...
 - A. Remo
 - B. Pendet
 - C. Piring
 - D. Gambyong
4. Salah satu etnis yang ada di propinsi Jawa Timur antara lain adalah....
 - A. Suku Tengger
 - B. Suku Sunda
 - C. Suku Asmat
 - D. Suku Betawi
5. Profesi yang sesuai untuk masyarakat di sekitar daerah wisata adalah....
 - A. Penyanyi
 - B. Jasa dan service
 - C. Pedagang kelontong
 - D. Pedagang sovenir
6. Kerajaan Hindu di Jawa Timur yang dipimpin oleh seorang raja yang terkenal dengan ramalannya yang disebut Jangka Jayabaya adalah kerajaan...
 - A. Kediri
 - B. Singasari
 - C. Majapahit
 - D. Tarumanegara
7. Raja yang pernah memimpin kerajaan Hindu/Budha di Jawa Timur hingga mencapai puncak kejayaan pada masa kepemimpinannya sampai mancanegara. Kerajaan tersebut adalah...
 - A. Ken Arok
 - B. Brawijaya
 - C. Gajah Mada
 - D. Hayam Wuruk
8. Perhatikan Peta pulau Jawa berikut.



Berdasarkan peta di atas, maka karakteristik geografis pulau Jawa bagian tengah adalah


- A. Dataran rendah
 - B. Rawa-rawa
 - C. Dataran tinggi
 - D. Deretan gunung api
9. Secara geografis, Indonesia terletak pada posisi silang yang strategis. Dampak letak geografis tersebut di bidang transportasi diantaranya....
 - A. Peningkatan transportasi laut secara maksimal
 - B. Perkembangan pariwisata yang pesat
 - C. Sebagai destinasi pariwisata utama
 - D. Penambah devisa negara

10. Indonesia memiliki wilayah memanjang dari Sabang sampai Merauke. Saat ini di Surabaya menunjukkan pukul 11.00 maka waktu di Halmahera menunjukkan pukul
- A. 12.00 B. 13.00 C. 14.00 D. 15.00
11. Salah satu kegiatan ekonomi penduduk yang tinggal di daerah pantai adalah....
- A. budidaya rumput laut sebagai bahan pangan C. kegiatan industri untuk produksi barang
 B. pertanian sebagai sumber pangan penduduk D. kegiatan peternakan sebagai bahan pangan
12. Pengaruh kegiatan manusia berikut yang menyebabkan keseimbangan lingkungan menjadi terganggu adalah
- A. Membuat terasering pada lahan miring agar tidak terjadi tanah longsor
 B. Membakar hutan untuk membuka lahan pemukiman dan pertanian baru
 C. Menanam pohon pada lahan yang gundul sehingga hutan menjadi lestari
 D. Menebang hutan dengan cara tebang pilih sehingga hutan tidak menjadi gundul
13. Usaha untuk meningkatkan hasil pertanian dengan cara pengolahan lahan pertanian yang ada dengan sebaik-baiknya untuk meningkatkan hasil pertanian dengan menggunakan berbagai sarana disebut ...
- A. mekanisasi pertanian C. intensifikasi pertanian
 B. ekstensifikasi pertanian D. diversifikasi pertanian
14. Penggunaan pupuk kimia secara berlebihan dapat mengganggu keseimbangan lingkungan karena dapat mengakibatkan...
- A. Penurunan tingkat kesuburan di perairan
 B. Peningkatan kandungan oksigen di perairan
 C. Peningkatan populasi makhluk hidup di perairan
 D. Peningkatan populasi enceng gondok secara tidak terkendali
15. Percampuran antara penduduk asli dan penduduk pendatang (transmigran) itu penting dan bermanfaat untuk
- A. terjadi perkawinan campuran di antara mereka
 B. mereka saling mengenal kepribadiannya
 C. hubungan mereka semakin baik
 D. persatuan nasional semakin kokoh
16. Banyaknya bangsa Portugis berdatangan ke Indonesia memiliki maksud untuk
- A. mengunjungi tempat wisata di Indonesia C. mengekspor sumber daya alam ke Indonesia
 B. menguasai perdagangan di Indonesia D. menyebarkan agama Budha
17. Perhatikan pernyataan berikut:
- | | |
|-------------------------|-----------------------------------|
| 1. Lahirnya Budi Utomo | 3. Kebangkitan Nasional Indonesia |
| 2. Perundingan Renville | 4. Pertempuran Medan Raya |
- Peristiwa yang menunjukkan upaya bangsa Indonesia mempertahankan kedaulatan kemerdekaan Indonesia adalah
- A. 1 dan 2 B. 1 dan 3 C. 2 dan 4 D. 3 dan 4
18. Salah satu penyebab kegagalan perjuangan rakyat sebelum tahun 1908 adalah

- A. Perjuangan yang terpusat pada satu pemimpin.
- B. Banyaknya rakyat Indonesia yang sibuk dengan organisasi yang didirikan
- C. Banyaknya keanekaragaman budaya di Indonesia
- D. Berjuang tanpa adanya taktik perang.

19. Di bagian selatan negara Indonesia berbatasan darat dengan Negara

- A. Singapura
- B. Australia
- C. Timor Leste
- D. Papua Nugini



20. Jenis sumber daya alam yang dihasilkan negara diatas adalah

- A. Karet alam dan minyak sawit
- B. Emas dan Tembaga
- C. Beras dan kedelai
- D. Minyak bumi dan gas alam

21. Pasangan tabel di atas yang tepat adalah...

1	Filipina	A	Kepulauan
2	Malaysia	B	Daratan
3	Kamboja	C	Kepulauan
4	Singapura	D	Daratan

- A. 1 - A
- B. 2 - B
- C. 3 - C
- D. 4 - D

22. Tari Tinikling merupakan tarian bambu tradisional yang berasal dari negara...

- A. Myanmar
- B. Malaysia
- C. Filipina
- D. Brunei Darussaalam

23. Berikut ini yang bukan faktor penyebab terjadinya modernisasi di Indonesia adalah...

- A. kemudahan akses informasi
- B. ingin hidup lebih baik
- C. ingin efisien dalam bekerja
- D. ingin hidup tanpa orang lain

24. Penggunaan alat komunikasi tanpa batasan usia dapat berakibat baik yaitu...



- A. komunikasi orang tua dan anak lebih mudah
- B. anak anak dapat bermain game di mana saja
- C. menjawab soal ulangan dengan membuka internet
- D. kemudahan dalam melihat gambar porno

25. Salah satu sikap masyarakat yang tergerus oleh pengaruh kebudayaan asing adalah...

- A. gotong royong, ramah, tepo seliro
- B. individual, gotong royong, ramah
- C. disiplin, ramah, tepo seliro
- D. acuh tak acuh, ramah, tepo seliro

26. Salah satu dampak positif dari modernisasi di bidang transportasi adalah waktu tempuh perjalanan menjadi lebih cepat karena ...

- A. Sarana transportasi menggunakan bahan bakar yang ramah lingkungan
B. Jumlah sarana transportasi semakin banyak
C. Sarana transportasi menggunakan teknologi yang canggih
D. Sarana transportasi berukuran besar
27. Perhatikan gambar alat di bawah ini



Alat yang dapat dipakai mendesain tulisan atau gambar untuk memproduksi banner atau spanduk ditunjukkan dengan nomor ...

- A. 1 B. 2 C. 3 D. 4
28. Jakarta Informal Meeting adalah salah satu contoh peran Indonesia dalam membantu menyelesaikan konflik yang terjadi di negara ...
- A. Malaysia B. Filipina C. Kamboja D. Vietnam
29. Penampilan sekelompok penari Saman dari Aceh ke beberapa negara anggota ASEAN merupakan contoh peran Indonesia di bidang ...
- A. ekonomi B. politik C. sosial D. budaya

30. Perhatikan Gambar berikut



Gambar di atas merupakan salah satu tokoh pendiri ASEAN yang bernama ...

- A. Adam Malik
B. Thanat Khoman
C. S.Rajaratnam
D. Narsisco Ramos
31. Mementaskan berbagai macam tarian Nusantara keberbagai negara anggota ASEAN termasuk salah satu contoh kerja sama ASEAN di bidang ...
- A. Pendidikan B. Budaya C. Sosial D. Ekonomi
32. Berikut ini merupakan organisasi yang dibentuk untuk mempersiapkan kemerdekaan Indonesia adalah ...
- A. BPUPKI B. PMI C. KNPI D. PNI

33. Salah satu tokoh yang berperan dalam persiapan kemerdekaan Indonesia adalah
- A. Sukarno B. Suharto C. Sudirman D. Moh. Yamin
34. Di bawah ini yang merupakan peristiwa yang terjadi dalam rangka mempertahankan kemerdekaan Indonesia adalah
- A. Perang Diponegoro C. Bandung Lautan Api
B. Pramelayu D. Puputan Margarana
35. Salah satu upaya yang dikembangkan untuk meningkatkan kehidupan kebangsaan yang sejahtera adalah
- A. memberikan semua yang diminta rakyat C. menaikkan semua gaji pegawai pemerintah
B. menurunkan semua harga barang pokok D. memberikan kenyamanan hidup dan bekerja

II. Jawablah pertanyaan di bawah ini dengan benar!

36. Tuliskan 2 kerajaan Hindu yang pernah berdiri di Indonesia!
37. Jelaskan 2 dampak negatif dari letak geografis Indonesia!
38. Jelaskan kegiatan ekonomi penduduk dan mata pencaharian penduduk di negara Indonesia, Filipina, dan Singapura!
39. Jelaskan 3 perubahan sosial budaya sebagai dampak globalisasi!
40. Jelaskan jasa dan peranan Sayuti Melik dalam memproklamasikan kemerdekaan!

LATIHAN SOAL IPS PAKET C

I. BERILAH TANDA SILANG (X) PADA HURUF A, B, C ATAU D DI DEPAN JAWABAN YANG PALING BENAR!

1. Pengolahan sumber daya alam yang berupa rumput laut di Jawa Timur berada di kota...
A. Bangkalan B. Jombang C. Banyuwangi D. Nganjuk
2. Salah satu sumber daya alam di sektor kelautan yang dihasilkan di kabupaten Pasuruan adalah...
A. budidaya rumput laut C. budidaya mutiara
B. budidaya ikan cupang D. budidaya kerang
3. Kesenian khas daerah Ponorogo propinsi Jawa Timur adalah
A. Remo B. Reog C. Serimpi D. Gambyong
4. Salah satu etnis yang terdapat di Banyuwangi Jawa Timur adalah....
A. Suku Osing B. Suku Tengger C. Suku Bawean D. Suku Asmat
5. Profesi yang sangat dibutuhkan dan berkaitan dengan pariwisata adalah....
A. sales B. sopir C. guide D. guru.
6. Kerajaan Hindu yang terdapat di Malang Jawa Timur berdasarkan Prasasti Dinoyo adalah kerajaan....
A. Singasari B. Majapahit C. Kanjuruhan D. Tarumanegara
7. Kerajaan Hindu-Budha yang dipimpin oleh Ratu Sima yang dikenal tegas, jujur, dan bijaksana adalah kerajaan....
A. Kutai B. Kalingga C. Tarumanegara D. Tulang Bawang

8.



Batas wilayah bagian utara pada pulau di atas adalah....

- A. Samudra Indonesia C. Laut Timor
B. Samudra Hindia D. Laut Jawa
9. Dampak negatif di bidang transportasi sebagai akibat letak geografis Indonesia yang strategis adalah
A. Eksplorasi besar-besaran
B. Tersingkirnya transportasi tradisional
C. Adanya pasar gelap yang masuk ke Indonesia.
D. Budaya yang masuk membuat budaya lokal tersingkirkan
10. Kota-kota di Indonesia yang termasuk kedalam waktu Indonesia bagian tengah adalah....
A. Denpasar, Kupang, dan Jayapura C. Denpasar, Mataram, dan Kupang
B. Mataram, Kupang, dan Semarang D. Surabaya, Jakarta dan Semarang
11. Pemanfaatan lingkungan sebagai sumber daya alam untuk kegiatan ekonomi seharusnya ...
A. tidak merusak alam C. mengubah lingkungan alam
B. sampai habis semuanya D. mengutamakan keuntungan
12. Dampak buruk yang terjadi terhadap lingkungan akibat banyaknya rumah-rumah kumuh yang ada di perkotaan adalah....

- A. ikan-ikan banyak yang mati karena pencemaran air limbah rumah tangga
 B. banjir didaerah perkotaan karena banyak orang yang mencuci disekitar sungai
 C. sungai menjadi keruh karena banyak orang membuang air cucian rumah tangga ke sungai
 D. banjir di daerah perkotaan karena banyak mendirikan bangunan di tepi sungai
13. Usaha untuk meningkatkan hasil pertanian dengan cara memperluas lahan pertanian baru, disebut ...
 A. intensifikasi pertanian
 B. diversifikasi pertanian
 C. ekstensifikasi pertanian
 D. mekanisasi pertanian
14. Pernyataan di bawah ini yang merupakan dampak positif dari perkembangan industri di Indonesia adalah....
 A. masyarakat cenderung lebih konsumtif
 B. mengurangi ketergantungan dari bangsa lain
 C. banyak penduduk melakukan urbanisasi ke kota
 D. pencemaran yang ditimbulkan oleh limbah industri
15. Seorang transmigran dan keluarganya meninggalkan kampung halaman dan memulai hidup baru di tempat baru, mereka berhadapan dengan suasana dan budaya baru, mulai dari tetangga, budaya, adat dan kebiasaan setempat sehingga menciptakan kerukunan dan komunikasi yang harmonis antarsuku bangsa yang berbeda. Hal ini sesuai dengan tujuan transmigrasi yaitu....
 A. mengurangi kemiskinan di masyarakat
 B. pemerataan jumlah penduduk di Indonesia
 C. peningkatan taraf ekonomi masyarakat
 D. meningkatkan persatuan dan kesatuan bangsa
16. Salah satu faktor yang mempengaruhi bangsa Eropa datang ke Indonesia adalah
 A. Menyebarkan agama nasrani di Indonesia
 B. Obyek wisata alam di Indonesia sangat indah
 C. Letak Indonesia mudah dijangkau oleh bangsa Eropa
 D. Penduduk Indonesia bersikap ramah tamah
17. Perhatikan pernyataan berikut:
 1. Pertempuran 10 Nopember 1945
 2. Perundingan Linggar Jati
 3. Kebangkitan Nasional Indonesia
 4. Peristiwa Sumpah Pemuda tahun 1928
 Peristiwa yang menunjukkan upaya bangsa Indonesia mempertahankan kedaulatan kemerdekaan Indonesia adalah
 A. 1 dan 2
 B. 1 dan 3
 C. 2 dan 4
 D. 3 dan 4
18. Perjuangan bangsa Indonesia untuk mengusir penjajah sering dapat digagalkan oleh pihak penjajah. Hal ini disebabkan oleh
 A. Bangsa Indonesia menyambut baik kedatangan bangsa Eropa
 B. Banyak tanam paksa yang menyebabkan rakyat Indonesia lemah
 C. Bentuk gerakannya belum diorganisasi dan tergantung kepada pemimpin
 D. Banyaknya penduduk yang kelaparan dan kekurangan gizi
19. ASEAN merupakan organisasi Negara-Negara Asia Tenggara. Wilayah bagian timur wilayah ASEAN adalah
 A. Laut Cina Selatan
 B. Selat Malaka
 C. Samodera Hindia
 D. Samodera Pasifik

20. Perhatikan peta wilayah ASEAN berikut:
Sumber daya alam yang banyak dihasilkan di wilayah yang bertanda "X" adalah

A. Kayu Jati
B. Kelapa Sawit
C. Karet
D. Kayu Cendana



21. Negara anggota ASEAN yang wilayahnya berbentuk kepulauan adalah...
- A. Singapura, Philipina, Malaysia
B. Laos, Thailan, Singapura
C. Kamboja, Myanmar, Birma
D. Kamboja, Birma, Laos
22. Tari Rangku Alu merupakan tarian bambu tradisional yang berasal dari negara...
- A. Malaysia
B. Indonesia
C. Brunei Darussaalam
D. Laos
23. Berikut ini yang merupakan faktor eksternal penyebab terjadinya modernisasi di Indonesia adalah...
- A. adanya kemudahan akses teknologi dan informasi
B. adanya keinginan meningkatkan efisiensi kerja dan meningkatkan produksi
C. adanya keinginan hidup lebih praktis atau lebih nyaman
D. adanya keinginan memperoleh sesuatu lebih banyak, bermutu, dan hemat tenaga
24. Dahulu banyak terdapat wartel (warung telepon) sebagai tempat berkomunikasi, namun sekarang dengan berkembangnya internet keberadaan wartel tergantikan oleh warnet (warung internet). Dampak buruk yang sering ditimbulkan adalah
- A. internet dapat mudah diakses
B. membuka lapangan usaha baru di masyarakat
C. menyebarnya westernisasi
D. informasi menyebar dengan pesat
25. Dalam era globalisasi ini perilaku anak yang sudah jarang nampak dalam keseharian di sekolah adalah...
- A. patuh, gembira, sopan
B. patuh, sopan, berani
C. patuh, tekun, sopan
D. tekun, sopan, manja
26. Pada saat ini kita dapat bepergian dari satu tempat ke tempat lainnya dalam waktu yang cepat atau singkat, hal ini merupakan dampak positif dari adanya modernisasi di bidang....
- A. transportasi
B. komunikasi
C. ekonomi
D. kebudayaan
27. Perhatikan gambar di bawah ini !



1



2




3



4

Alat yang memungkinkan pekerja pabrik dapat bekerja siang dan malam memproduksi barang ditunjukkan dengan nomor ...

A. 1
B. 2
C. 3
D. 4

28. Menjadi salah satu negara pendiri ASEAN merupakan peran Indonesia di bidang
 A. Ekonomi B. politik C. sosial D. budaya
29. Perhatikan beberapa pernyataan di bawah ini
 1) menjadi tuan rumah KTT I ASEAN 3) mengirim pasukan perdamaian ke Kamboja
 2) mengirim tenaga kerja ke Malaysia 4) mengirim tim kesenian ke Malaysia
 Peran Indonesia di bidang budaya dalam lingkup ASEAN ditunjukkan dengan pernyataan nomor ...
 A. 1 B. 2 C. 3 D. 4
30. Gambar di atas merupakan salah satu tokoh pendiri ASEAN yang bernama
 A. Adam Malik C. S.Rajaratnam
 B. Thanat Khoman D. Narsisco Ramos
- 
31. Membentuk pasar bebas ASEAN merupakan salah satu bentuk kerja negara ASEAN di bidang
 A. Pendidikan B. Sosial C. Politik D. Ekonomi
32. Salah satu organisasi yang dibentuk pada masa pendudukan Jepang untuk mempersiapkan kemerdekaan Indonesia adalah
 A. PMI B. PPKI C. FKPPI D. KNIP
33. Tokoh yang berperan dalam persiapan kemerdekaan Indonesia adalah
 A. Akhmad Subarjo C. Moh. Thoha
 B. Suharto D. Sugondo Joyopuspito
34. Salah satu peristiwa yang terjadi dalam rangka mempertahankan kemerdekaan Indonesia adalah ...
 A. Perang Aceh C. Pertempuran Ambarawa
 B. Puputan Margarana D. Perang Padri
35. Salah satu sikap dalam upaya mengembangkan kehidupan kebangsaan yang sejahtera adalah
 A. bersikap masa bodoh dengan apa yang terjadi disekitar kita
 B. memanfaatkan sumber daya alam dengan hemat dan efektif
 C. menggantungkan semua kebutuhan hidup kepada pemerintah
 D. memenuhi semua kebutuhan hidupnya dari negara lain

II. ISILAH TITIK-TITIK DI BAWAH INI DENGAN JAWABAN YANG BENAR!

36. Tuliskan 2 kerajaan Budha yang pernah berdiri di Indonesia!
37. Jelaskan 2 dampak positif dan 2 dampak negatif dengan letak geografis Indonesia!
38. Jelaskan kegiatan ekonomi penduduk di negara Malaysia, Kamboja, dan Thailand!
39. Jelaskan dengan disertai 3 perubahan sosial budaya sebagai dampak globalisasi!
40. Jelaskan jasa dan peranan Sukarni dalam memproklamasikan kemerdekaan!