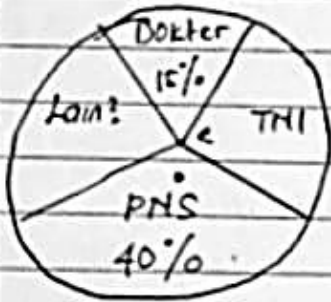


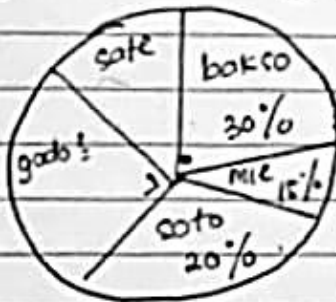
DIAGRAM LINGKARAN

No. _____
Date: Kls 5.

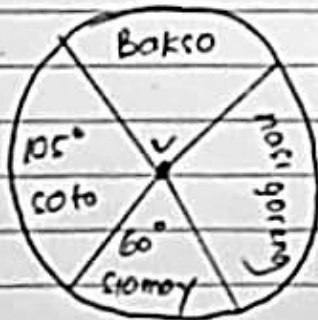
1. Perhatikan diagram lingkaran jenis pekerjaan orang tua siswa Kls 6.
Yg menjadi TNI ada 60 orang., maka pekerjaan orang tua lain? adalah.



2. Berikut data makanan kesukaan siswa Kls 6.
jika yg gemar makan sate sebanyak 20 anak, maka jumlah siswa yg gemar makan mie sebanyak ..



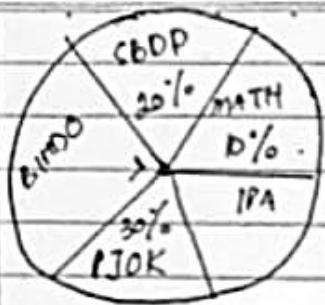
3. Jika jumlah siswa Kls 6 ada 72 anak maka anak yg suka nasi goreng ada .. anak.



4. Perhatikan hasil kebun Pak Budi ada 480 ton., maka hasil panen cengkeh ... ton.



5



Jika siswa yg suka mapel BIRING ada 10 anak, maka siswa yg suka pelajaran IPA sebanyak ... anak.

6

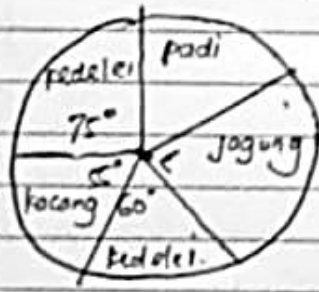


Diagram disamping menyajikan olah raga kegemaran siswa kls 6.

Jika siswa yg gemar bola sebanyak 36 org. Tentukan yg gemar tenis meja!

7

Berikut diagram yg menunjukkan luas lahan di Desa Sentosa yg ditanami jenis tanaman:



Jika luas lahan kedelai 120 ha hitunglah luas masing-masing lahan tanaman tsb!

8

Berikut diagram mata pencataraan orang tua siswa:



Jika jumlah siswa di sekolah itu ada 120 anak, maka tentukan banyak siswa untuk masing-mata pencataraan!