

SOAL MATEMATIKA
DIAGRAM LINGKARAN

5

1. Perhatikan diagram lingkaran berikut!

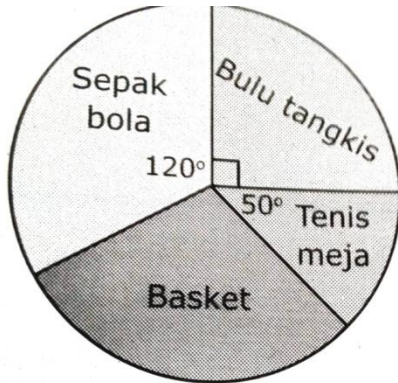


Diagram di atas menunjukkan jenis olah raga yang disukai oleh 36 siswa kelas

5. Tentukan berapa banyak siswa yang mengikuti olah raga :

- A. Sepak bola
- B. Bulu tangkis
- C. Basket
- D. Tennis meja

2. Perhatikan diagram lingkaran berikut!

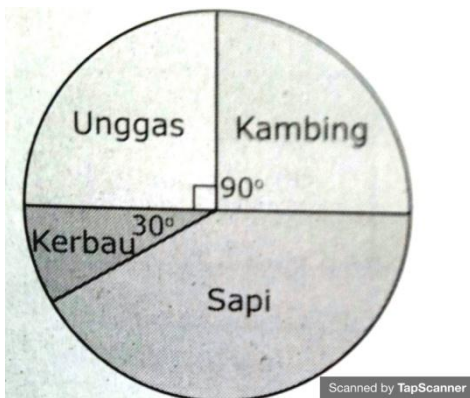


Diagram di atas menunjukkan jumlah ternak yang dimiliki oleh penduduk Desa Makmur sebanyak 1.440 ekor.

Tentukan banyak ternak masing-masing :

- A. Kerbau
- B. Sapi
- C. Unggas
- D. Kambing

3. Perhatikan diagram lingkaran berikut!

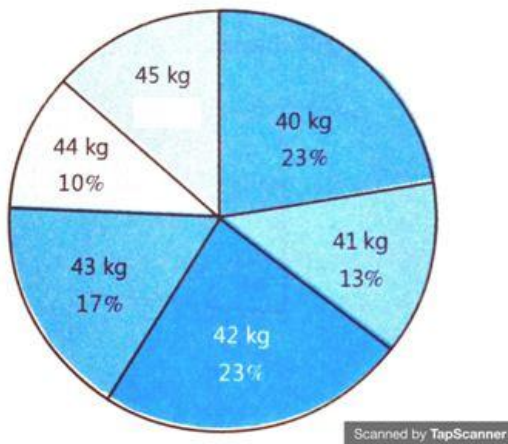
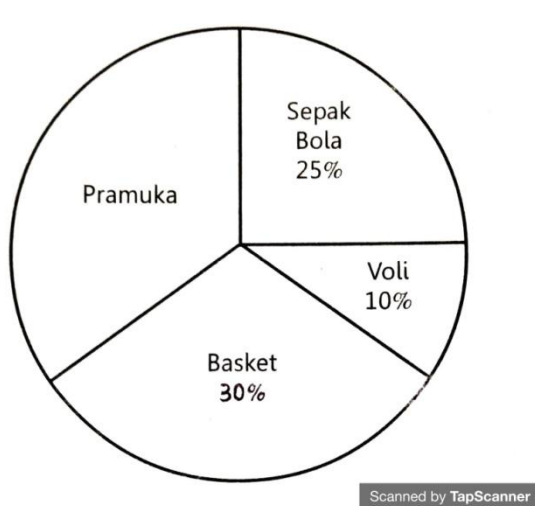


Diagram di atas menunjukkan siswa kelas V sebanyak 30 orang. Tentukan berapa orang berat masing-masing tiap anak :

- A. 40 kg
- B. 41 kg
- C. 42 kg
- D. 43 kg
- E. 44 kg
- F. 45 kg

4. Perhatikan diagram lingkaran berikut!



Jumlah seluruh siswa SD Bumi Pertiwi yang ada pada data adalah sebanyak 200 orang. Tentukan berapa banyak masing-masing anak yang mengikuti :

- A. Sepak bola
- B. Voli
- C. Basket
- D. Pramuka