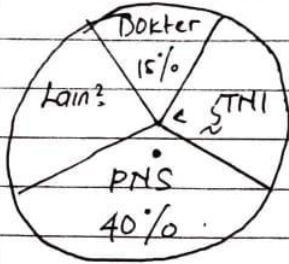
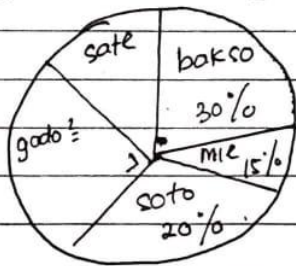


# DIAGRAM LINGKARAN

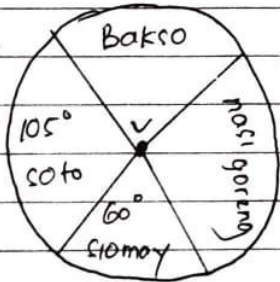
1 Perhatikan diagram Lingkaran jenis pekerjaan orang tua siswa Kls 6.  
 yg menjadi TNI ada 60 orang., maka pekerjaan orang tua lain  $\frac{2}{3}$  adalah.



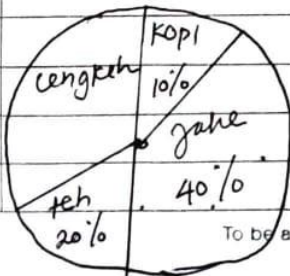
2 Berikut data makanan kesukaan siswa Kls 6.  
 jika yg gemar makan sate sebanyak 20 anak, maka jumlah siswa yg gemar makan mie sebanyak.



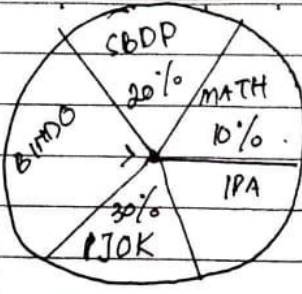
3 Jika jumlah siswa Kls 6 ada 72 anak maka anak yg suka nasi goreng ada .. anak.



4 Perhatikan hasil kebun Pak Budi ada 480 ton., maka hasil panen cengkeh ... ton.



5



Jika siswa yg suka mapel BIKDO ada 10 anak, maka siswa yg suka pelajaran IPA sebanyak ... anak.

6

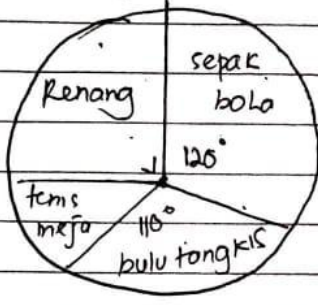
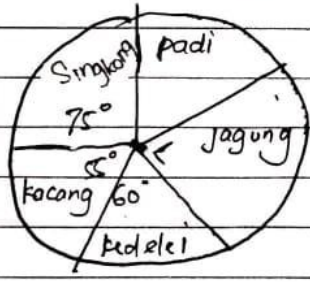


Diagram disamping menyajikan olah raga kegemaran siswa kls 6.

Jika siswa yg gemar bola sebanyak 36 org. Tentukan yg gemar tenis meja!

7

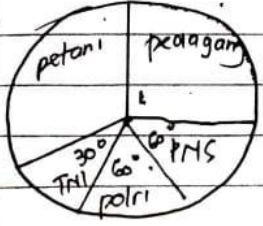
Berikut diagram yg menunjukkan luas lahan di Desa Sentosa yg ditanami jenis tanaman.



Jika luas lahan kedelai 120 ha Hitunglah luas masing-masing lahan tanaman tsb!

8

Berikut diagram mata pencaharian orang tua siswa



Jika jumlah siswa di sekolah itu ada 120 anak, maka tentukan banyak siswa untuk masing-mata pencaharian!