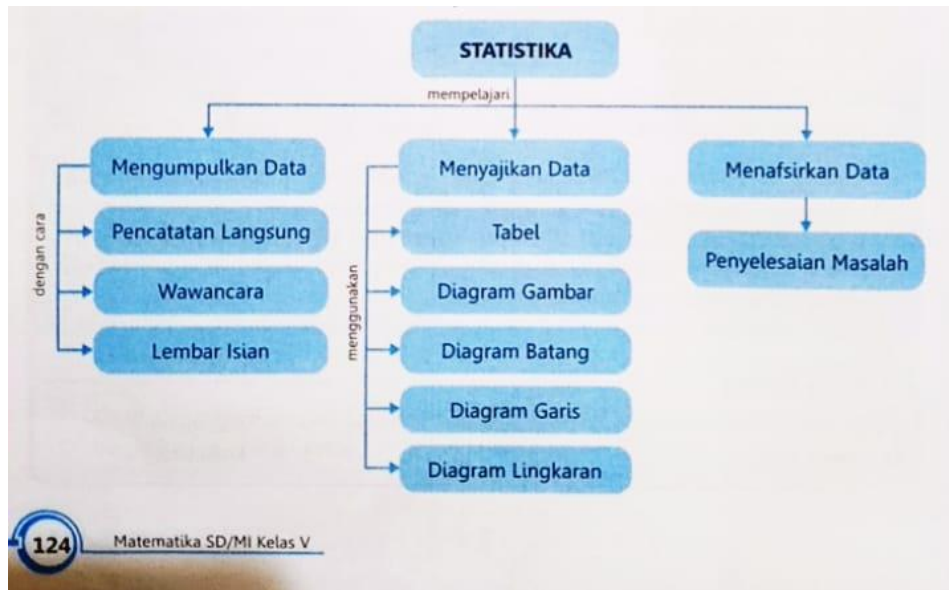


PENYAJIAN DATA

5



SOAL

Sajikan soal di bawah ini dalam bentuk tabel!

1. Siswa kelas 5 yang berjumlah 30 orang telah selesai melaksanakan ulangan matematika. Kemudian Bu Guru memeriksa dan mencatat hasil ulangan matematika setiap siswa sebagai berikut!

6, 6, 7, 7, 8, 5, 9, 7, 6, 7

8, 8, 8, 6, 5, 6, 6, 7, 9, 6

7, 7, 8, 8, 7, 8, 9, 9, 7, 5

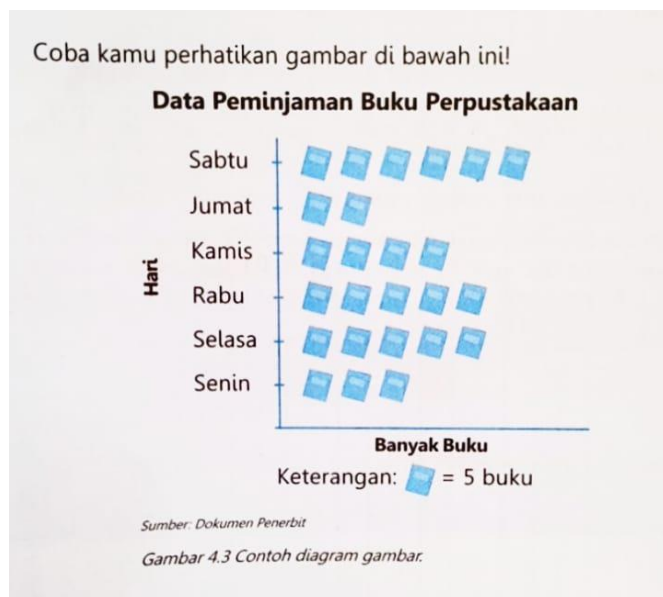
2. Alma murid kelas 5 di SD MENTARI PAGI. Ia mendata berat badan teman temannya dengan cara wawancara, dan didapatkan data sebagai berikut!

41 kg, 45 kg, 40 kg, 42 kg, 40 kg, 42 kg, 41 kg, 40 kg, 42 kg, 42 kg

45 kg, 45 kg, 42 kg, 43 kg, 43 kg, 40 kg, 44 kg, 43 kg, 41 kg, 40 kg

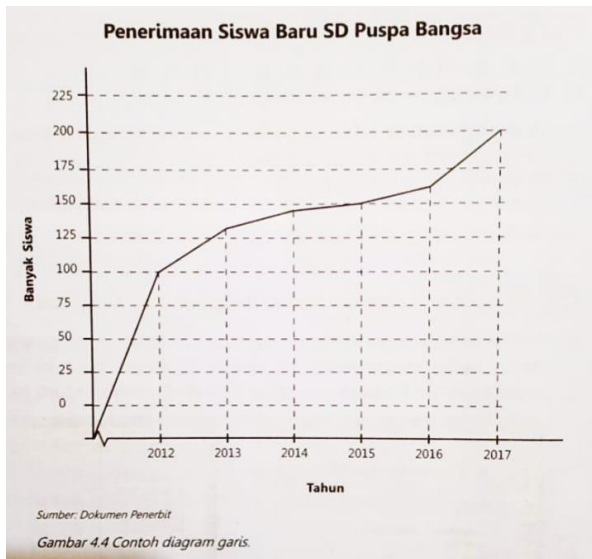
42 kg, 43 kg, 40 kg, 45 kg, 40 kg, 44 kg, 41 kg, 42 kg, 44 kg, 43 kg

3. Perhatikan gambar di bawah ini!

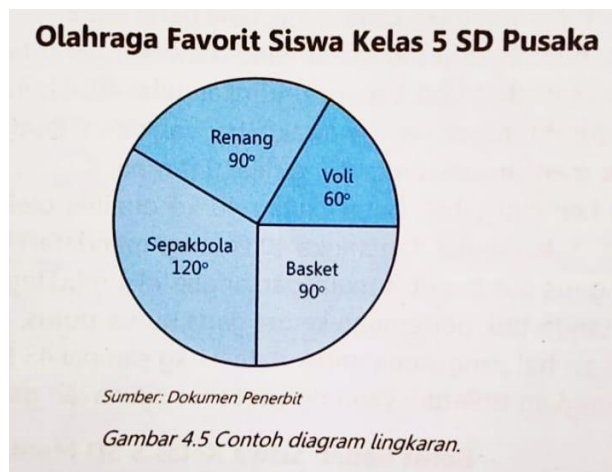


MEMBACA DAN MEMAHAMI DATA

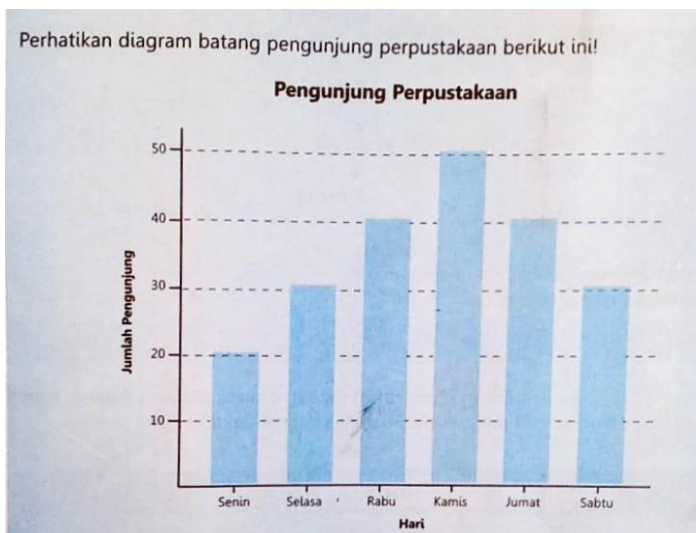
1. Diagram Garis



2. Diagram Lingkaran (Derajat)



3. Diagram Batang



4. Diagram Lingkaran (persen)

