

PENYAJIAN DATA.

1. Berikut ini data SD "TELADAN" tentang kelulusan siswa

Th	Banyak Siswa
2000	50
2001	48
2002	54
2003	52
2004	49

- Berapa nilai rata-rata (mean)
- Medion
- Buat diagram batang.

2. Di bawah ini adalah nilai ulangan sains kelas 6. Hitunglah

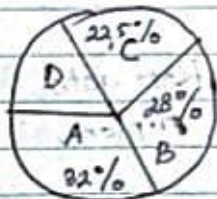
Nilai Ulangan	Banyak Siswa
60	20
70	9
80	12
90	7
100	2

- Hitung Mean
- Medion
- Modus
- Buat diagram lingkaran

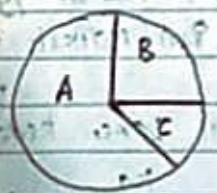
3. Tinggi badan 15 siswa sbb : 140, 135, 150, 136, 130, 138, 135, 130, 138, 136, 140, 135, 138, 137, 137

- Buat tabel
- Hitung Mean
- Medion
- Modus

4. A = kacang B padi C singkong D jagung
 Hasil panen seluruhnya 12 ton. Hasil jagung 2 ton.



A = kambing B = sapi C = ~~kambing~~ ayam
 Jika banyak ternak 120 ekor.
 Berapa ekor kambing?



6. Tinggi badan 7 anak adalah 140, 142, 143, 141, 135, 145 dan 148 (cm).
 Rata-rata tinggi badan 7 anak adalah ... cm

7. Rata-rata nilai ulangan Tuti 8 kali ulangan adalah 8,3.
 Jumlah nilai ulangan Tuti adalah ..

8. Nilai rata-rata ulangan IPS dari 25 anak adalah 8,6. Jika nilai Putri 6, berapa nilai rata-ratanya sekarang?

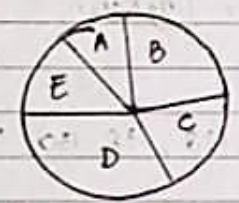
9. Rata-rata nilai ulangan IPA Lia, Veri, Cindy, Alvin dan Tia adalah 8,2. Jika nilai ulangan Lia 8, Veri 7, Alvin 9 dan Tia 8, Berapa nilai ulangan Cindy!

10. Berat 12 kotak 87 kg. Rata-rata berat masing-masing kotak ... kg.

11. Rata-rata nilai BI dari 20 siswa adalah 7,7. Jika nilai Toni digabung rata-ratanya menjadi 7,8, maka nilai Toni adalah ...

12. Rata-rata dari bilangan 678, 726 dan p adalah 718 maka nilai p adalah ...

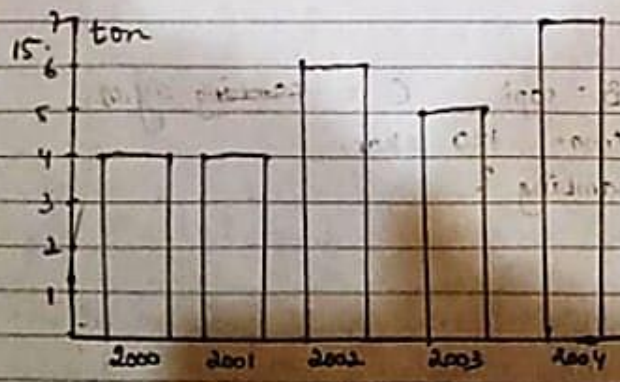
13.



A = ABRI ; B = pedagang ; C = petani
 D = peg. swasta ; E = peg. negeri
 A = 25° ; C = 70° ; E = 45°
 B = 100° ; D = 120°

Diagram diatas menunjukkan banyaknya penduduk desa SUKAMAJU sebanyak 720 orang. Tentukan banyak orang yg bekerja pada masing-masing jenis pekerjaan!

14. Penghasilan Pak Cokro dalam 28 hari Rp 630.000. Rata-rata penghasilan Pak Cokro dalam 6 hari adalah ... Rupiah.



- Selish hasil panen kedelai yg paling banyak dan sedikit adalah
- Rata-rata hasil panen kedelai tiap tahun ... kg
- Tahun berapa hasil panen paling banyak?

[Handwritten signature]