


**SOAL PKN (PERSIAPAN USEK)
PAKET A B C**

6

SOAL UJIAN TULIS PPKn PAKET 1

1. Makna dari simbol sila dalam Pancasila di samping adalah
A. hubungan manusia dengan yang menciptakannya
B. hubungan manusia satu sama lain yang saling membantu
C. satu kesatuan yang memiliki budaya yang berbeda - beda
D. satu kesatuan yang mencerminkan kesaamaan sosial
- 
2. Setiap hari Senin siswa melaksanakan upacara bendera, hal ini sesuai dengan sila Pancasila yang disimbolkan
A. bintang
B. rantai emas
C. pohon beringin
D. padi dan kapas
 3. Suatu hari ibu guru mengajak para siswa membersihkan ruang kelas. Siti dan Lani sedang bermain . Sebagai siswa yang baik, kewajiban Siti dan Lani adalah....
A. terus bermain tanpa menghiraukan.
B. mengajak teman- teman lain ikut bermain.
C. ikut serta dalam membersihkan ruang kelas.
D. ikut dalam membersihkan ruang kelas jika disuruh.
 4. Perhatikan pernyataan dibawah ini!
1) Menjalankan ibadah bersama
2) Mengerjakan tugas sekolah
3) Mendapatkan pengajaran
4) Mendapat penghargaan
5) Datang sebelum bel masuk
Pernyataan diatas yang merupakan hak siswa adalah....
A. 1,2, dan 3
B. 1,2, dan 4
C. 1,3 dan 5
D. 1,3, dan 4
 5. Edo senang melihat pentas budaya yang di selenggarakan oleh dinas pariwisata. Sikap yang tepat terhadap keragaman budaya adalah ...
A. menyamakan keragaman budaya agar bersatu
B. bersatu jika sesuai kebudayaan daerahnya
C. mempelajari kebudayaan daerah lain yang disukai
D. menampilkan kebudayaan dari daerah lain
 6. Kegiatan di bawah ini contoh kegiatan sehari-hari yang merupakan pengamalan Pancasila sila ke-3 dari Pancasila adalah...
A. Menghargai pendapat teman ketika musyawarah menentukan tujuan wisata di kelas
B. Mendahulukan kepentingan bersama daripada kepentingan pribadi dan golongan.
C. Mencintai dan mempelajari budaya daerah untuk memperkaya budaya nasional
D. Tidak memaksakan kehendak kepada teman ketika pemilihan ketua kelas
 7. Kegiatan yang memupuk rasa persatuan di lingkungan rumah yang benar adalah...
A. Mengikuti pemilihan ketua kelas secara musyawarah mufakat
B. Musyawarah mufakat untuk pembagian tugas di rumah

- C. Membantu kerja bhakti di lingkungan sekitar
- D. Mematuhi peraturan di lingkungan sekitar

8. Perhatikan contoh kegiatan berikut!

- 1) Menjenguk teman yang sakit di rumah sakit
- 2) Mengembangkan sikap adil terhadap teman di sekolah
- 3) Tidak memaksakan kehendak kepada teman saat musyawarah
- 4) Menjaga keseimbangan antara hak dan kewajiban saat di kelas
- 5) Saling menghormati antar teman demi persatuan dan kesatuan

Kegiatan di atas yang sesuai pengamalan Pancasila sila ke-5 adalah....

- A. 2) dan 1)
- B. 2) dan 4)
- C. 3) dan 5)
- D. 4) dan 5)

9. Perhatikan contoh kegiatan berikut!

- 1) Berani membela kebenaran dan keadilan
- 2) Membina kerukunan hidup antar umat beragama
- 3) Mengembangkan rasa cinta tanah air dan bangsa
- 4) Mengembangkan sikap saling mencintai sesama manusia
- 5) Tidak memaksakan agama dan kepercayaan kepada orang lain

Kegiatan di atas yang sesuai pengamalan Pancasila sila ke-1 adalah...

- A. 1) dan 2)
- B. 2) dan 5)
- C. 3) dan 4)
- D. 4) dan 5)

10. Dalam pemilihan ketua kelas telah dilaksanakan musyawarah, namun tidak tercapai kata mufakat hal ini disebabkan ada beberapa kelompok mempertahankan pendapatnya. Untuk mengambil keputusan yang benar adalah

- A. pembuat keputusan sendiri
- B. pengambilan suara terbanyak
- C. diserahkan kepada bapak ibu guru
- D. diserahkan kepada kelompok terbanyak

11. Salah satu kewajiban siswa di rumah adalah ...

- A. menjaga kebersihan rumah
- B. mengabaikan perintah orang tua
- C. meminta uang jajan
- D. mengotori lingkungan rumah

12. Nama tari dan daerah asal yang ditunjukkan oleh gambar di samping adalah....

- A. Pendet dari Bali
- B. Janger dari Banyuwangi
- C. Jaipong dari Jawa Barat
- D. Serimpi dari Jawa tengah



13. Salah satu mata pencaharian penduduk di daerah seperti pada gambar di samping adalah....

- A. nelayan
- B. petani
- C. petambak
- D. peternak



14. Perhatikan gambar berikut!

Kegiatan di atas merupakan salah satu upacara adat yang dilakukan secara turun temurun sebagai peringatan doa bersama yang dipimpin tetua adat atau tokoh agama setempat. Upacara adat semacam ini kebanyakan dilakukan oleh suku...



- A. Bali B. Dayak C. Jawa D. Minang
15. Manfaat dari kegiatan seperti gambar di samping adalah...
- A. masyarakat terasa aman
B. terjadi pencurian di sekitar lingkungan rumah
C. adanya kekacauan di sekitar lingkungan rumah
D. perselisihan antar warga
16. Suatu hari ibu Siti sedang membersihkan ruang dapur setelah selesai memasak. Kakak Siti ikut membantu mencuci piring. Manfaat kegiatan dalam keluarga tersebut adalah...
- A. Pekerjaan bertambah banyak C. Pekerjaan ibu menjadi lebih ringan
B. Pekerjaan cepat terselesaikan D. Siti senang membantu ibu
17. Akibat yang akan terjadi apabila masyarakat tidak dapat menjaga persatuan dan kesatuan adalah....
- A. Kehidupan menjadi tentram C. masyarakat menjadi lebih harmonis
B. Akan terjadi perselisihan D. selalu tercipta kerukunan
18. Setiap siswa harus melaksanakan hasil keputusan musyawarah. Hal ini mencerminkan pengamalan sila dalam Pancasila yaitu sila
- A. 1 B. 2 C. 3 D. 4
19. Siswa selain mendapat hak juga melaksanakan kewajiban. Salah satu kewajiban yang harus dilaksanaka oleh siswa di sekolah melaksanakan tugas yang diberikan oleh guru. Hal tersebut sesuai dengan nilai-nilai yang terkandung dalam sila-sila dari Pancasila yaitu sila...
- A. 1 B. 2 C. 3 D. 4
20. Dalam perumusan Pancasila para tokoh bangsa berhasil menyusun dasar negara dengan menyatukan perbedaan dan melahirkan sebuah keputusan yang diterima oleh semua pihak. Nilai sikap yang terkandung dalam peristiwa tersebut adalah....
- A. kedisiplinan B. kejujuran C. kebersamaan D. kegigihan
21. Pada hari minggu, Beni bersama dengan Ayah menjenguk Lani yang sedang sakit. Lani sudah ijin tidak masuk sekolah karena sakit selama lima hari. Tindakan yang dilakukan Beni tersebut sesuai dengan simbol dari Pancasila, yaitu ...



22. Siti dan Lani akan mengikuti kegiatan kerja bakti warga di lingkungannya. Kerja bakti ini dilakukan untuk menjaga kebersihan lingkungan. Saat tiba di lokasi kerja bakti, Siti dan Lani melihat banyak sampah menumpuk di selokan. Kewajiban yang harus dilakukan oleh Siti dan Lani adalah ...

- A. membiarkannya tetap menumpuk di selokan
- B. memungut dan membuangnya ke tempat sampah
- C. menjadikan Mainan dengan anak-anak yang lain
- D. pergi dan bermain dengan teman-temannya yang lain

23. Sebagai warga masyarakat kita mempunyai tanggung jawab dalam menjaga kebersihan lingkungan sekitar. Salah satu bentuk tanggung jawab tersebut adalah ...

- A. membuang sampah ke sungai
- B. membiarkan sampah menumpuk di trotoar jalan
- C. membuang air sisa cucian deterjen ke sungai
- D. membersihkan sampah di selokan depan rumah

24. Perhatikan gambar di bawah ini!

Keluarga Pak Herman sedang melakukan musyawarah untuk menentukan tujuan wisata pada liburan semester. Hak yang dimiliki Firman dalam kegiatan tersebut adalah ...




- A. menerima keputusan musyawarah dengan ikhlas
- B. menyatakan pendapatnya untuk memilih lokasi liburan
- C. melaksanakan keputusan Musyawarah dengan lapang dada
- D. memaksakan pendapatnya untuk diterima oleh yang lain

25. Alden, Alfin, Lita, Amel dan Afi mendapatkan tugas untuk piket hari Senin. Namun hanya empat anak yang melaksanakan tugas piket hari Senin, sedangkan Amel hanya duduk dan tidak melakukan apa-apa. Setelah keempatnya selesai melaksanakan kewajiban mereka berpamitan kepada ibu guru. Sedangkan Amel tertinggal karena belum menyelesaikan kewajibannya.

Berdasarkan ilustrasi di atas seseorang yang tidak melaksanakan kewajibannya akan mendapatkan ...

- A. sanksi
- B. hadiah
- C. pujian
- D. teman

26. Pada saat warga kota membuang sampah di sungai dan di saluran air di dekat rumah, dampak yang terjadi ketika musim hujan adalah
- A. Longsor B. Gempa bumi C. Banjir D. Pemanasan global
27. Bentuk kepedulian terhadap bencana alam yang menimpa di daerah lain adalah...
- A. Obat-obatan, pakain yang tidak layak pakai, dan minuman
 B. Obat-obatan, pakain yang layak pakai, dan makanan
 C. Obat-obatan, pakain yang layak pakai, dan rumah
 D. Obat-obatan, pakain yang layak pakai, dan buku
28. Perhatikan gambar berikut!



Sikap yang tepat terhadap kekayaan budaya tersebut adalah....

- A. Menghina
 B. Membanding-bandingkan
 C. Mencela
 D. Menghargai
29. Perhatikan gambar!

Lambang koperasi yang bermakna kemakmuran ditunjukkan nomor....



- A. 1 B. 2 C. 3 D. 4
30. Ngaben merupakan upacara kremasi atau pembakaran jenazah di Bali, Indonesia. Upacara adat Ngaben merupakan sebuah ritual yang dilakukan untuk mengirim jenazah pada kehidupan mendatang. Dalam upacara ini, jenazah diletakkan dengan posisi seperti orang tidur.
- Berdasarkan ilustrasi diatas, Ngaben termasuk keberagaman dalam....
- A. Agama B. Kesenian C. Adat budaya D. Kepercayaan
31. Salah satu upaya pemerintah dalam menjaga keutuhan NKRI adalah....
- A. membuat organisasi anti negara – negara berbasis liberal
 B. membangun kerjasama dengan negara lain dalam bidang pendidikan

- C. membina persatuan dan kesatuan dengan menjalin kerjasama antar daerah
 D. membuat peraturan undang-undang tentang menghentikan ekspor
32. Salah satu upaya merebut kemerdekaan pada saat masa penjajahan para pejuang bangsa menggunakan sistem perang gerilya, nilai yang dapat kita teladani dari peristiwa tersebut...
- A. rela berkorban
 B. gotong royong
 C. individualisme
 D. bersembunyi untuk menghindar
33. Para perumus Pancasila dalam bermusyawarah sangat menghargai perbedaan pendapat. Mereka menjunjung tinggi nilai-nilai....
- A. egoisme
 B. kesukuan
 C. toleransi
 D. kerja keras
34. Perhatikan pernyataan berikut!
1. Konferensi Meja Bundar
 2. Perjanjian Linggarjati
 3. Penetapan Komite Nasional Indonesia Pusat (KNIP)
 4. Perumusan Piagam Jakarta oleh Panitia Sembilan
- Berdasarkan pernyataan di atas, peristiwa bersejarah yang terjadi menjelang proklamasi kemerdekaan adalah....
- A. 1 dan 2
 B. 1 dan 3
 C. 2 dan 4
 D. 3 dan 4
35. Sikap untuk mempertahankan kemerdekaan NKRI yang dapat dilaksanakan di sekolah adalah....
- A. memilih teman yang satu suku
 B. gotong royong kerja bakti
 C. melaksanakan piket sendiri
 D. menyontek saat ujian

SOAL URAIAN

36. Tuliskan 3 (tiga) contoh kegiatan sehari – hari yang merupakan penerapan sila ke 5 dari Pancasila !
37. Jelaskan dan berikan 2 contoh keberagaman sosial budaya yang ada dalam masyarakat!
38. Sebutkan 2 (dua) manfaat hidup rukun di lingkungan masyarakat!
39. Lani mengikuti ulangan PAS . Lani mengerjakan dengan teliti dan menyelesaikanya tepat waktu. Setelah selesai hasil ulangan dikumpulkan pada bu guru. karena belajar dengan tekun Lani mendapatkan nilai bagus
 Sebutkan pelaksanaan antara hak dan kewajiban dari cerita di atas!
40. Jelaskan 3 dampak yang kita peroleh dari persatuan dan kesatuan dalam kehidupan berbangsa dan bernegara!

LATIHAN SOAL PPKn PAKET 2

1. Makna dari simbol sila dalam Pancasila di samping adalah
 - A. keputusan dilakukan dengan cara musyawarah
 - B. hubungan manusia satu sama lain yang saling membantu
 - C. satu kesatuan yang memiliki budaya yang berbeda - beda
 - D. satu kesatuan yang mencerminkan kesaamaan sosial
-
2. Dilingkungan tempat tinggal Pak Danu ada giliran ronda malam. Setiap kepala keluarga mendapat giliran ronda secara bergantian, hal ini sesuai dengan sila Pancasila yang disimbolkan
 - A. kepala banteng
 - B. rantai emas
 - C. pohon beringin
 - D. padi dan kapa
 3. Kegiatan yang wajib di lakukan siswa dalam menjaga kebersihan kelas adalah
 - A. tidak perlu melaksanakan piket kelas karena ada petugas kebersihan sekolah
 - B. semangat persatuan serta tanggung jawab diperlukan agar kelas menjadi bersih
 - C. kelas dibersihkan jika disuruh oleh guru atau kepala sekolah saja
 - D. membersihkan ruang kelas pada saat ada perlombaan bersih kelas
 4. Perhatikan pernyataan dibawah ini!
 - (1) Hadir di sekolah sebelum bel sekolah berbunyi.
 - (2) Mendapatkan pendidikan dan pengajaran.
 - (3) Mengikuti upacara bendera
 - (4) Mendapatkan penghargaan berupa atas prestasi yang dicapai.Pernyataan diatas yang termasuk hak siswa di sekolah adalah ...
 - A. 1 dan 3
 - B. 2 dan 3
 - C. 2 dan 4
 - D. 3 dan 4
 5. Kenduri merupakan salah satu upacara adat yang di lakukan secara turun temurun sebagai peringatan doa bersama yang di pimpin oleh tokoh agama setempat. Sikap positif yang tepat terhadap keragaman budaya adalah...
 - A. harus bersaing
 - B. saling menghargai
 - C. sangat peduli
 - D. menyesuaikan diri
 6. Kegiatan di bawah ini contoh kegiatan sehari-hari yang merupakan pengamalan Pancasila sila ke-3 dari Pancasila adalah...
 - A. Membeli dan mencintai produk dalam negeri
 - B. Membantu korban bencana di lingkungan sekitar
 - C. Tidak memaksakan kehendak kepada orang lain
 - D. Mengunjungi tempat wisata yang indah di Indonesia
 7. Kegiatan yang memupuk rasa persatuan di lingkungan rumah yang benar adalah...
 - A. Musyawarah untuk menentukan tujuan wisata saat liburan sekolah.
 - B. Mengadakan pemungutan suara terbanyak saat pemilihan ketua RT.
 - C. Membantu membersihkan selokan saat kerja bhakti di lingkungan sekitar.
 - D. Membuat peraturan sendiri-sendiri agar tercipta keamanan dan ketertiban di rumah.
 8. Perhatikan contoh kegiatan berikut ini!
 - 1) Menghargai karya teman meskipun banyak kekurangan.
 - 2) Menghormati dan menghargai hak teman-temannya.

- 3) Mendahulukan hak daripada kewajiban agar nyaman.
- 4) Tidak memaksakan pendapat kepada teman saat berdiskusi.
- 5) Saling menghormati agar tercipta persatuan dan kesatuan di sekolah.

Kegiatan di atas yang sesuai dengan Pancasila sila ke-5 adalah....

- A. 1) dan 2) B. 1) dan 3) C. 2) dan 3) D. 4) dan 5)
9. Sofiya anak yang baik. Dia senang bekerja keras, tidak pernah memaksakan kehendak pada adiknya saat berdiskusi, selalu menghormati hak saudara-saudaranya, tidak pernah memaksakan agama yang dianutnya kepada ayahnya yang berbeda agama.

Perbuatan Sofiya yang sesuai dengan pengamalan Pancasila sila ke-1 adalah...

- A. Senang bekerja keras dan bergotong royong
- B. Selalu menghormati hak saudaranya.
- C. Tidak pernah memaksakan kehendak kepada adiknya saat diskusi.
- D. Tidak pernah memaksakan agama yang dianutnya kepada keluarganya
10. Contoh bentuk tanggung jawab sebagai warga di lingkungan masyarakat dalam menjaga kebersihan lingkungan adalah ...

- A. mengadakan bakti sosial ke panti asuhan
- B. melaksanakan kegiatan posyandu setiap sebulan sekali
- C. mengikuti kerja bhakti atau gotong royong membersihkan selokan
- D. menjaga ketertiban dan keamanan dengan mengikuti ronda malam

11. Contoh salah satu kewajiban siswa di rumah adalah ...

- A. mendapatkan kasih sayang dari orang tua C. keluar rumah tanpa izin orang tua
- B. menyayangi orang tua D. mendapatkan perlindungan dari orang tua

12. Perhatikan gambar di bawah ini!



Gambar tari disamping dikenal sebagai tari pembuka atau penyambutan tamu yang sangat terkenal. Tari tersebut berasal dari daerah....

- A. Jawa Barat C. Jawa Timur
- B. Jawa Tengah D. DKI

13. Contoh salah satu mata pencaharian masyarakat sekitar pegunungan adalah...

- A. peternak B. petani C. nelayan D. petambak

14. Gambar disamping adalah upacara adat yang berasal dari daerah....





- A. Sumatra Barat C. Bali
- B. Jawa Barat D. Nusa Tenggara Barat



15. Manfaat dari kegiatan di samping adalah....

- A. meningkatkan rasa kebersamaan antar penghuni kampung
- B. meningkatkan kebersihan di sekitar kampung
- C. perselisihan semakin meningkat di antara warga kampung
- D. menjaga keindahan sekitar kampung



16. Suatu hari Lani mendapat tugas dari guru untuk membuat kliping tentang tokoh-tokoh perjuangan Indonesia. Lani dibantu kakaknya dalam menyelesaikan tugas tersebut. Manfaat dari kegiatan diatas adalah...
- A. Tugas Lani menjadi lebih ringan
B. Akan tercipta kerukunan dalam keluarga tersebut
C. Tugas kakak Lani bertambah banyak
D. Kakak Lani senang membantu
17. Dalam kehidupan bermasyarakat sudah sepatutnya kita selalu hidup rukun dengan sesama tetangga. Di bawah ini yang merupakan akibat tidak terciptanya hidup rukun adalah....
- A. Kehidupan menjadi lebih baik
B. Masyarakatnya saling bekerja sama
C. Akan selalu terjadi perselisihan
D. Ketentraman dalam masyarakat
18. Di bawah ini yang merupakan penerapan sila ke-4 dari Pancasila di lingkungan sekitar adalah....
- A. Musyawarah pemilihan ketua RT
B. Hidup rukun di masyarakat
C. Saling menghormati satu sama lain
D. Selalu bersikap adil
19. Dalam rangka HUT RI sekolah Lani mengadakan lomba menghias kelas. Masing -masing kelas diwajibkan untuk menghias kelas sebaik mungkin. Lani memimpin teman-temannya untuk bermusyawarah dalam mempersiapkan kegiatan tersebut. Hal tersebut mencerminkan nilai-nilai dari Pancasila yaitu sila....
- A. 1
B. 2
C. 3
D. 4
20. Pada sidang BPUPKI dalam proses perumusan Pancasila sebagai dasar Negara terjadi perbedaan pendapat. Hal tersebut mencerminkan sikap....
- A. berjiwa besar
B. bekerja keras
C. rela berkorban
D. toleransi
21. Jembatan penghubung desa Sumber Rejeki dan Sumber Makmur semalam runtuh karena kondisi yang rapuh. Ayah Aziz mendapatkan undangan untuk melaksanakan kerja bakti membersihkan reruntuhan jembatan bersama warga yang lain. Ayah aziz berangkat dengan bersemangat dan bekerja sama dengan warga dalam membersihkan reruntuhan jembatan tersebut.
- A.  B.  C.  D. 
22. Dilingkungan tempat tinggal Pak Andik dilakukan kegiatan ronda malam. Setiap kepala keluarga mendapat giliran ronda secara bergantian Pak Andik mendapatkan giliran ronda malam. Kondisi tubuh Pak Andik terlalu lelah setelah selesai lembur dari kantor. Hal yang seharusnya dilakukan oleh Pak Andik untuk menyikapi hal tersebut adalah ...
- A. tidak mengikuti ronda malam karena terlalu lelah
B. berdiam diri di rumah jika tidak dipanggil oleh yang lain
C. mengikuti ronda tetapi hanya duduk-duduk di pos ronda
D. mengikuti dan melaksanakan ronda penuh tanggung jawab
23. Perhatikan kegiatan-kegiatan di bawah ini!
- 1) Melakukan daur ulang sampah plastik
 - 2) Membuang limbah hasil olahan industri ke sungai
 - 3) Membuang sampah ke selokan depan rumah
 - 4) Membiarkan sampah menumpuk di tempat sampah

Tindakan yang merupakan bentuk tanggung jawab dalam menjaga kebersihan lingkungan sekitar terdapat pada nomor ...

A. 1)

B. 2)

C. 3)

D. 4)

24. Lani bersama keluarganya sedang bekerja bakti membersihkan rumah. Semua anggota keluarga mendapatkan tugasnya masing-masing. Adik Dayu mendapatkan tugas menyiram bunga di halaman rumah. Kewajiban yang harus dilakukan oleh Adik Dayu yaitu ...

A. bermain air di halaman

C. menyiram bunga dengan tertib

B. menginjak-injak bunga di halaman

D. menyiram bunga sambil bermain air

25. Pak Ruslan mendapatkan undangan untuk mengikuti musyawarah RT 05 di Balai RW 02 Kelurahan Sukamaju. Setiap kali mendapatkan undangan Pak Ruslan tidak pernah menghadiri undangan tersebut. Akibat yang akan diterima oleh Pak Ruslan dari masyarakat di lingkungan tempat tinggalnya adalah ...

A. dihina warga

C. dimarahi Pak RT

B. diusir warga

D. dikucilkan Warga

26. Penebangan pohon secara liar yang dilakukan dalam kurun yang lama mengakibatkan....

A. Tanah semakin subur

C. Hilangnya habitat hewan hutan

B. Tumbuhan baru tumbuh dengan subur

D. Semakin banyak jumlah hewan

27. Bantuan yang tepat bagi para korban bencana alam agar bisa bekerja adalah....

A. Pakaian

B. Makanan

C. Obat-obatan

D. Keterampilan


28. Sikap yang tepat terhadap kekayaan budaya tersebut adalah....

A. tidak membedakan setiap suku bangsa

B. mencela suku lain

C. membanggakan suku sendiri

D. merendahkan suku lain



29. Perhatikan gambar berikut!

Lambang koperasi yang ditunjuk huruf X bermakna....

A. Landasan idiil koperasi

B. Kokohnya persahabatan

C. Kemamkmuran rakyat

D. Keadilan sosial



30. Hari minggu kemarin, warga desa Sukasari mengadakan gotong royong membuat biopori untuk mencegah banjir. Pak Made yang merupakan orang bali mendapat bagian untuk menangani pembuatan lubang. Pak Sihombing dengan beberapa warga mengangkat pipa yang akan ditanam di lubang. Pak Joko sebagai ketua RT yang mengkoordinir semua kegiatan dengan suaranya yang khas orang jawa. Bu Nababan bagian konsumsi dengan semangat memasak makanan di dapur umum. Mereka bekerjasama dan saling membantu untuk menyelesaikan sebelum matahari tenggelam.

Berdasarkan ilustrasi diatas, termasuk keberagaman dalam....

A. Agama

B. Kesenian

C. Adat budaya

D. Suku

31. Berikut ini upaya pemerintah untuk mempertahankan NKRI adalah...

A. menjalin persatuan antara TNI dan rakyat


B. memecah belah etnis dengan berita hoaks

12. ... mencemooh budaya dari daerah lain
13. Dalam menjalankan pemerintahan Islam di Kerajaan Demak, Raden Patah tetap mengizinkan berdirinya pura dan kelenteng di wilayah kerajaannya. Nilai yang terkandung dalam peristiwa tersebut adalah
14. Para tokoh seperti Bung Karno, Moh. Yamin, dan Soepomo, berusaha keras menyumbangkan buah pikiran untuk merumuskan sebuah dasar negara yang kuat. Meski berbeda prinsip dan pendapat, mereka tidak menunjukkan saling memusuhi. Nilai yang terkandung dalam peristiwa tersebut adalah
33. Perhatikan pernyataan berikut!
1. Bandung Lautan Api
 2. Agresi Militer Belanda II
 3. Peristiwa perobekan bendera di Hotel Yamato
 4. Perumusan Piagam Jakarta oleh Panitia Sembilan
- Berdasarkan pernyataan di atas, peristiwa bersejarah yang terjadi menjelang proklamasi kemerdekaan adalah....
34. Salah satu sikap untuk mempertahankan kemerdekaan NKRI adalah....

SOAL URAIAN

36. Tuliskan 3 (tiga) contoh kegiatan sehari – hari yang merupakan penerapan sila ke 4 dari Pancasila !
37. Jelaskan dan berikan 2 contoh keberagaman sosial budaya yang ada dalam masyarakat!
38. Tuliskan 2 (dua) manfaat hidup rukun di lingkungan masyarakat!
39. Sepulang sekolah Lani dan teman-temannya melaksanakan tugas piket. Ada yang menyapu, menyiram tanaman, dan menghapus papan tulis. Setelah selesai mereka berpamitan sehingga mendapatkan kondisi kelas menjadi bersih.
Sebutkan pelaksanaan antara hak dan kewajiban dari cerita di atas!
40. Pada masa mempertahankan kemerdekaan Indonesia, rakyat Indonesia bersatu padu melawan penjajah sehingga mampu mempertahankan kemerdekaan. Jelaskan tiga dampak persatuan dan kesatuan dalam kehidupan berbangsa dan bernegara di era masa kini!

LATIHAN SOAL PPKN PAKET C

1. Makna dari simbol sila dalam Pancasila di samping adalah
A. hubungan manusia dengan yang menciptakannya
B. hubungan manusia satu sama lain yang saling membantu
C. satu kesatuan yang memiliki budaya yang berbeda - beda
D. satu kesatuan yang mencerminkan kesaamaan sosial
- 
2. Dilingkungan sekolah Edo setiap hari Rabu dan Kamis mengenakan seragam bermotif batik, hal ini sesuai dengan pengamalan sila Pancasila yang disimbolkan
A. padi dan kapas
B. pohon beringin
C. kepala banteng
D. rantai emas
 3. Kegiatan yang wajib di lakukan siswa dalam menjaga kebersihan kelas adalah
A. ada petugas kebersihan sekolah
B. mendapat penghargaan dari guru
C. makan dan minum di dalam kelas
D. membuang sampah pada tempatnya
 4. Perhatikan pernyataan dibawah ini!
(1) Mengikuti upacara bendera setiap hari Senin
(2) Mendapatkan pendidikan dan pengajaran.
(3) Mendapatkan penghargaan atas prestasi yang dicapai.
(4) Menggunakan semua fasilitas yang ada di sekolah
Pernyataan di atas yang termasuk hak siswa di sekolah adalah ...
A. 1, 2, dan 3 B. 1, 2, dan 4 C. 1, 3, dan 4 D. 2, 3, dan 4
 5. Dalam memperingati hari kemerdekaan RI, SD Pancasila mengadakan berbagai lomba. Salah satunya adalah lomba tari tradisional dari berbagai daerah yang diikuti semua siswa. Sikap positif terhadap perbedaan ragam budaya tersebut adalah ...
A. saling bersaing
B. menyesuaikan
C. melestarikannya
D. belajar tarian modern
 6. Kegiatan di bawah ini contoh kegiatan sehari-hari yang merupakan pengamalan Pancasila sila ke-3 dari Pancasila adalah...
A. Menjaga keseimbangan antara hak dan kewajiban
B. Mengembangkan persatuan Indonesia atas dasar Bhinneka Tunggal Ika.
C. Mengutamakan musyawarah dalam mengambil keputusan
D. Tidak memaksakan suatu agama kepada orang lain agar terjaga kesatuan
 7. Kegiatan yang memupuk rasa persatuan di lingkungan rumah yang benar adalah...
A. Membantu membersihkan rumah agar tercipta kenyamanan
B. Musyawarah untuk mencapai mufakat saat ada permasalahan di rumah
C. Membantu membersihkan selokan saat kerja bhakti di lingkungan sekitar
D. Membuat peraturan sendiri-sendiri agar tercipta keadaan yang damai dan tenang
 8. Zaidan anak yang baik. Dia selalu menghargai karya teman meskipun banyak kekurangan, mendahulukan kewajiban daripada haknya, tidak memaksakan pendapat kepada teman saat berdiskusi di kelas, dan selalu menghargai hak teman-temannya.

Perbuatan Dimas yang sesuai dengan Pancasila sila ke-5 adalah....

- A. Dia selalu menghargai karya teman meskipun banyak kekurangan
- B. Tidak memaksakan pendapat kepada teman saat berdiskusi di kelas
- C. Mendahulukan kewajiban daripada haknya
- D. Selalu menghargai hak teman-temannya.

9. Perhatikan contoh perbuatan berikut ini!

- 1) Senang bekerja keras
- 2) Menghormati hak saudara-saudaranya
- 3) Tidak pernah memaksakan kehendak pada adiknya saat berdiskusi
- 4) Tidak pernah memaksakan agama yang dianutnya kepada ayahnya yang berbeda agama.

Perbuatan di atas yang sesuai dengan pengamalan Pancasila ke-1 adalah nomor...

- A. 1) B. 2) C. 3) D. 4)

10. Sungai di sekitar rumah Ana terlihat sangat kotor dipenuhi sampah akibat dari banjir yang telah surut. Bentuk tanggung jawab yang seharusnya dilakukan Ana beserta warga dalam menjaga kebersihan lingkungan yaitu....

- A. Mencoba membersihkan sungai bersama warga sekitar.
- B. Melaporkan ke dinas kebersihan untuk segera membersihkan sungai.
- C. Tidak perlu membersihkan sungai karena dapat menyebabkan penyakit kulit.
- D. Memberi pengumuman kepada siswa untuk tidak membuang sampah di sungai.

11. Salah satu kewajiban siswa di rumah adalah ...

- A. memperoleh perlindungan C. menghormati orang tua
- B. mendapat kasih sayang D. membantah orang tua

12. Tari pada gambar disamping ini berasal dari daerah...

- A. Banyuwangi C. Ponorogo
- B. Madiun D. Jember



13. Mayoritas mata pencaharian masyarakat yang hidup pada gambar disamping adalah...

- A. Petani C. Peternak
- B. Pekebun D. nelayan



14. Upacara pada gambar di bawah ini yang merupakan budaya luhur yang sampai saat ini dilestarikan oleh Suku Tengger yang mendiami daerah di Provinsi....

- A. Sumatra Barat C. Bali
- B. Nusa Tenggara Timur D. Jawa Timur



15. Manfaat dari kegiatan pada gambar di samping adalah ...

- A. menjaga silaturahmi antar warga
- B. menjaga ketertiban di sekitar lingkungan rumah
- C. meningkatkan kebersihan di sekitar lingkungan rumah
- D. menjaga kedamaian antar warga



16. Pada hari libur keluarga Pak Ahmad melaksanakan kerja bakti bersama membersihkan lingkungan. Setiap anggota keluarga melaksanakan tugas masing-masing. Manfaat dari kegiatan di atas adalah....
- A. Pekerjaan akan cepat selesai
B. Bermalas-malasan
C. Mengantung pada orang lain
D. Menghambat pekerjaan orang lain
17. Di bawah ini merupakan akibat yang terjadi apabila di masyarakat tidak menjaga persatuan dan kesatuan adalah....
- A. Akan terjadi perselisihan
B. Tercipta kerukunan
C. Ketentraman di masyarakat
D. Saling bekerja sama
18. Kegiatan di bawah ini yang merupakan penerapan sila ke-4 adalah
- A. Kerja bakti membersihkan lingkungan
B. Musyawarah pemilihan ketua karang taruna
C. Menghormati agama lain
D. Selalu bersikap adil
19. Setiap siswa harus melaksanakan hasil keputusan musyawarah di sekolah. Hal ini mencerminkan pengamalan sila dalam Pancasila yang dilambangkan dengan gambar....

A.



B.



C.



D.



20. Berikut ini yang termasuk nilai juang yang harus dimiliki oleh para tokoh perumus Dasar Negara Pancasila adalah....
- A. mendahulukan kepentingan pribadi
B. bangga dan cinta terhadap tanah air
C. tumbuhnya rasa individualisme
D. kurangnya rasa peduli terhadap lingkungan
21. Pada saat musyawarah di sekolah. Abdul memberikan pendapat yang berbeda dari yang lain, bahkan bertentangan. Sikap peserta musyawarah tetap menghargai pendapat Abdul, meskipun berbeda dengan pendapat yang lain.
- Sikap peserta musyawarah terhadap Abdul sesuai dengan simbol Pancasila, yaitu ...

A.



B.



C.



D.



22. Nina piket kelas setiap hari Rabu, ia bertugas menyapu dan menyiram tanaman didepan ruang kelas. Pada saat Nina mengerjakan tugasnya, Adi mengajak Nina untuk bermain bersama teman yang lain. Hal yang seharusnya dilakukan oleh Nina adalah ...
- A. menolak ajakan Adi dan melaksanakan piket dengan tanggung jawab
B. menerima ajakan Adi bermain sambil melaksanakan piket
C. menerima ajakan Adi dan meninggalkan tugas piket
D. menolak ajakan Adi dan bermain air sendiri
23. Perhatikan kegiatan-kegiatan di bawah ini!
- 1) Melakukan pemilahan sampah sebelum dibuang ke tempat sampah
 - 2) Membuang limbah hasil olahan industri ke sungai
 - 3) Membuang sampah ke selokan depan rumah

4) Membiarkan sampah menumpuk di tempat sampah
Tindakan yang merupakan bentuk tanggung jawab dalam menjaga kebersihan lingkungan sekitar terdapat pada nomor ...

- A. 1) B. 2) C. 3) D. 4)

24. Perhatikan gambar di bawah ini!

Keluarga Cahyo bekerja bakti untuk mengubur kaleng-kaleng bekas yang dapat menimbulkan genangan air sesuai dengan gambar di atas.

Kewajiban Cahyo pada kegiatan tersebut adalah ...



- A. membiarkan anggota keluarga yang lain bekerja sendiri
B. ikut membantu sambil bermain-main dengan adik
C. membantu sesuai tugas dengan penuh tanggung jawab
D. pergi bermain bersama teman-teman di lapangan

25. Perhatikan gambar di bawah ini!

Kelas VI B melaksanakan kegiatan belajar kelompok untuk mengatasi kesulitan dan menyelesaikan tugas. Dalam kegiatan tersebut juga dilakukan diskusi agar siswa yang satu dengan yang lain paham terhadap materi yang sedang dikerjakan. Ketika semua anak dalam kelompok garuda hadir, hanya satu anak yang bernama Firdaus selalu tidak mengikuti kegiatan tapi meminta jawaban dari teman-temannya.

Akibat yang akan diterima oleh Firdaus adalah ...

- A. semakin akrab dengan temannya C. mendapatkan hadiah dari temannya
B. dipuji oleh teman-temannya D. mendapatkan teguran dari temannya

26. Mahalnya harga menu makanan sirip ikan hiu di restoran, memotivasi para nelayan untuk menangkap ikan hiu dalam jumlah besar sehingga mengakibatkan...

- A. Rusaknya terumbu karang C. Populasi ikan hiu semakin meningkat
B. Ikan hiu menjadi langka D. Rusaknya ekosistem laut

27. Sebagai seorang siswa tindakan kita untuk membantu para korban bencana alam adalah....

- A. Menyuruh teman untuk tidak peduli
B. Bersikap acuh tak acuh karena bukan saudara
C. Memengaruhi teman untuk tidak menyumbang dana bantuan
D. Menggalang dana bantuan di sekolah

28. Perhatikan gambar berikut ini!




Sikap kita sebagai pelajar tepat terhadap kekayaan budaya tersebut adalah....

- A. Menghina C. Menghargai
B. Membanding-bandingkan D. Mencela

29. Perhatikan gambar berikut!

Lambang koperasi yang bermakna bekerja keras ditunjukkan huruf

- A. S
- B. A
- C. T
- D. U



30. Desa Dumai penduduknya sebagian besar merupakan orang perantauan dengan latar belakang agama, suku, budaya yang beragam. Di desa tersebut bangunan masjid dan gereja terletak berdekatan. Setiap Jumat orang Islam melaksanakan sholat jumat secara besar-besaran. Sedangkan setiap hari minggu kegiatan ibadah doa dilaksanakan secara meriah. Meskipun begitu, kerukunan di dalam Desa Dumai tetap terjalin. Saling menghormati dan menghargai terjalin erat.

Berdasarkan ilustrasi diatas, termasuk keberagaman dalam....

- A. Agama
 - B. Kesenian
 - C. Adat budaya
 - D. Suku
31. Untuk menjaga persatuan dan kesatuan bangsa dalam mempertahankan NKRI, upaya yang dapat dilakukan pemerintah adalah
- A. membandingkan antar suku
 - B. menghina warga dari suku lain
 - C. mengejek budaya dari daerah lain
 - D. menjalin persahabatan antar suku bangsa
32. Dalam pembangunan Mesjid Menara Kudus, Sunan Kudus menggunakan corak hindu dalam membuat menaranya karena mayoritas penduduk Kudus beragama Hindu. Nilai yang terkandung dalam peristiwa tersebut adalah
- A. toleransi
 - B. kepedulian
 - C. musyawarah
 - D. gotong royong
33. Para Pemuda Indonesia merumuskan Sumpah Pemuda dengan latar belakang berbagai budaya dan ras. Meski berbeda prinsip dan pendapat, mereka tetap menghargai keputusan bersama. Nilai yang terkandung dalam peristiwa tersebut adalah
- A. gotong royong
 - B. kerja sama
 - C. kebersamaan
 - D. musyawarah

34. Perhatikan tabel berikut!

No	Peristiwa Sejarah
1	G 30 S PKI
2	Rengasdengklok
3	Palagan Ambarawa
4	Perang Puputan Margarana

Berdasarkan tabel di atas, peristiwa bersejarah yang terjadi menjelang proklamasi kemerdekaan adalah....

- A. 1
 - B. 2
 - C. 3
 - D. 4
35. Sikap untuk mempertahankan kemerdekaan NKRI yang dapat dilaksanakan di masyarakat adalah....
- A. memilih teman yang satu suku
 - B. gotong royong kerja bakti
 - C. menyebarkan berita hoaks
 - D. membuat organisasi separatis

36. Tuliskan 3 (tiga) contoh kegiatan sehari – hari yang merupakan penerapan sila ke 2 dari Pancasila !

37. Jelaskan dan berikan 2 contoh keberagaman sosial budaya yang ada dalam masyarakat!

38. Tuliskan 2 (dua) manfaat hidup rukun di lingkungan masyarakat!

39. Ani dan teman-temannya mendapat tugas dari guru untuk membuat kliping tentang tokoh perjuangan. Mereka melakukan belajar kelompok karena Lani dan teman-temannya melaksakan tugas dengan sungguh-sungguh maka kelompok Ani mendapat nilai bagus.
Sebutkan pelaksanaan antara hak dan kewajiban dari cerita di atas!

40. Perhatikan Gambar di bawah ini!



Persatuan dan kesatuan dalam kehidupan berbangsa dan bernegara akan memberikan banyak manfaat. Jelaskan tiga manfaat yang didapat dari persatuan dan kesatuan kehidupan berbangsa dan bernegara tersebut!